

بسمه تعالی



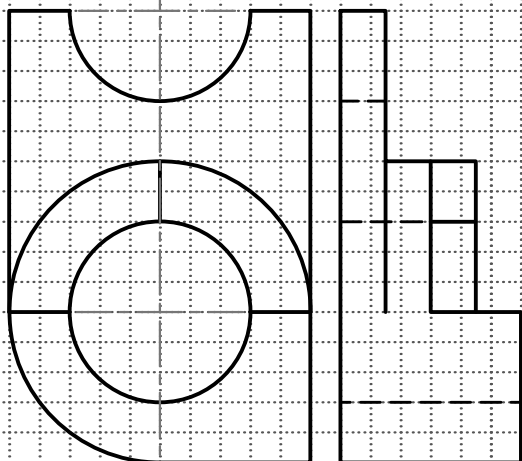
نمونه امتحان پایان ترم نقشه کشی صنعتی ۱

مدت امتحان: ۱۰۵ دقیقه

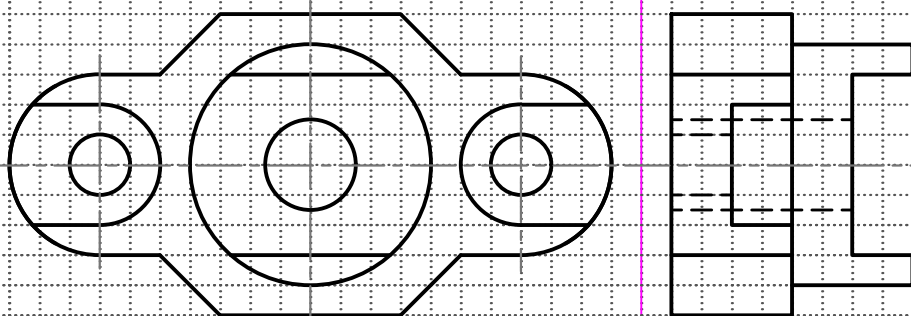
نام استاد:

نام و نام خانوادگی:

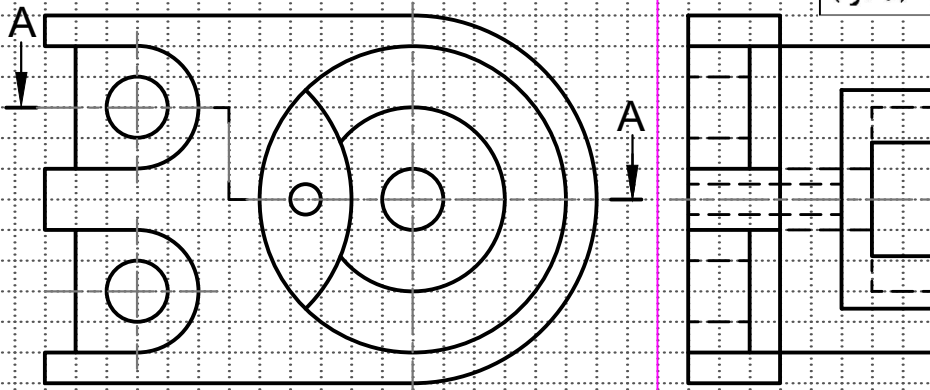
۱- تصویر مجسمه کاوالیر جسم زیر را رسم کنید. (۵ نمره)



۲- نیم برش از بالای جسم زیر را رسم کنید. (۵ نمره)



۳- برش A-A را رسم کنید. (۵ نمره)



۴- تصویر مجسمه ایزومتریک جسم زیر را رسم کنید. (۵ نمره)

