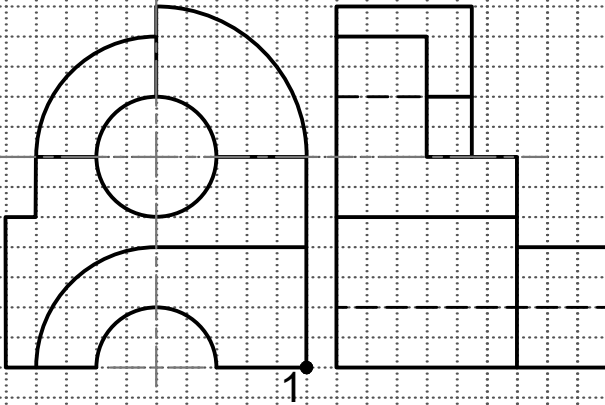
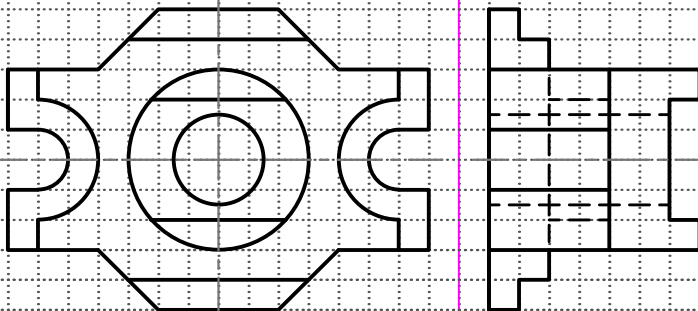


۱- تصویر مجسم کاوالیر جسم زیر را رسم کنید. (۵ نمره)

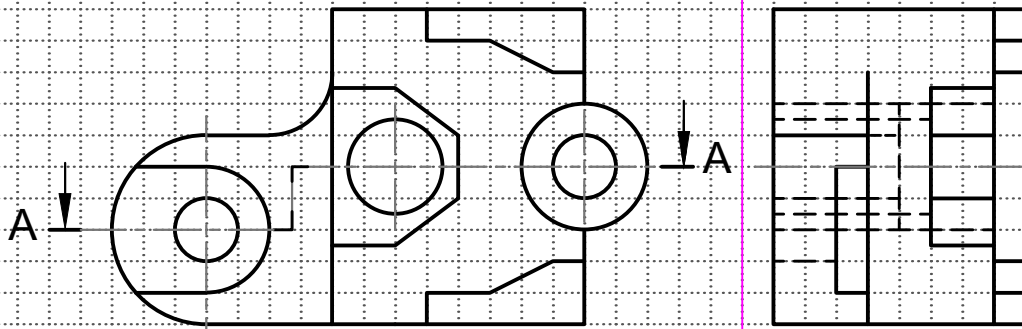


۱

۲- نیم برش از بالای جسم زیر را رسم کنید. (۵ نمره)



۳- برش A-A را رسم کنید. (۵ نمره)



۴- تصویر مجسم ایزومتریک جسم زیر را رسم کنید. (۵ نمره)

