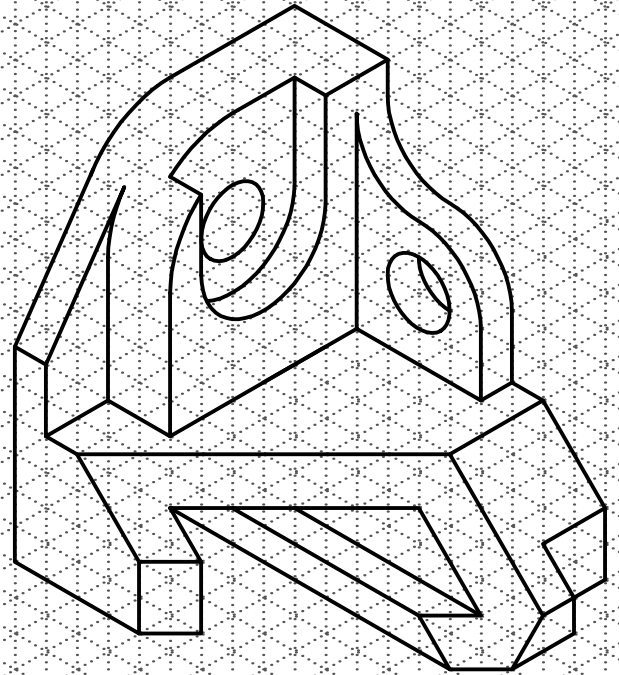
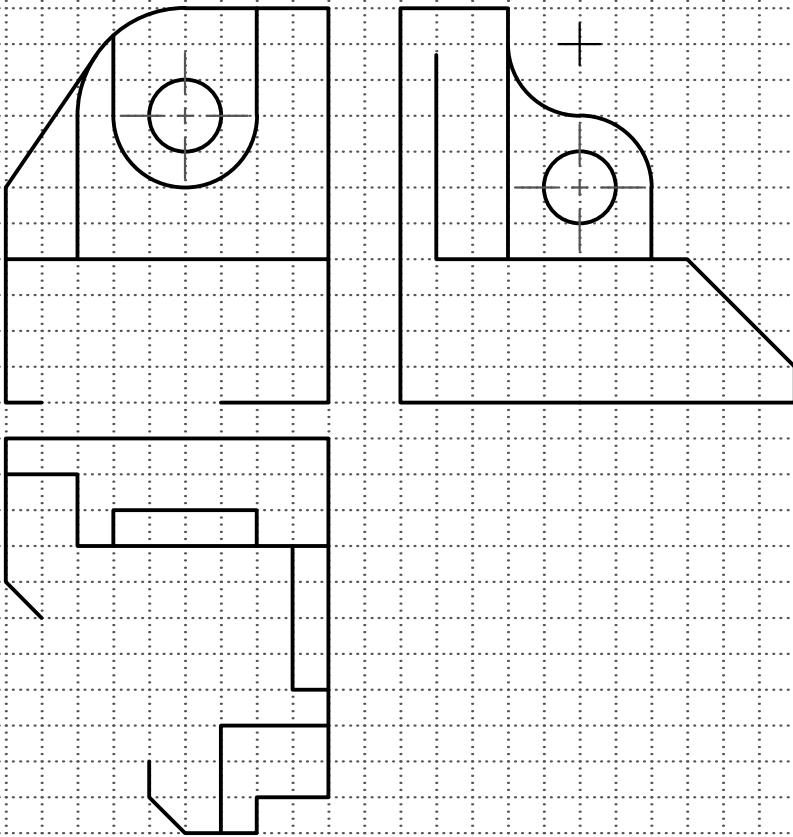
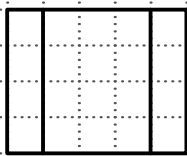
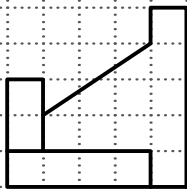


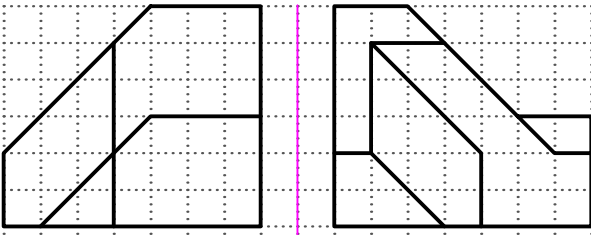
۱- سه تصویر جسم زیر را کامل کنید (۵ نمره)



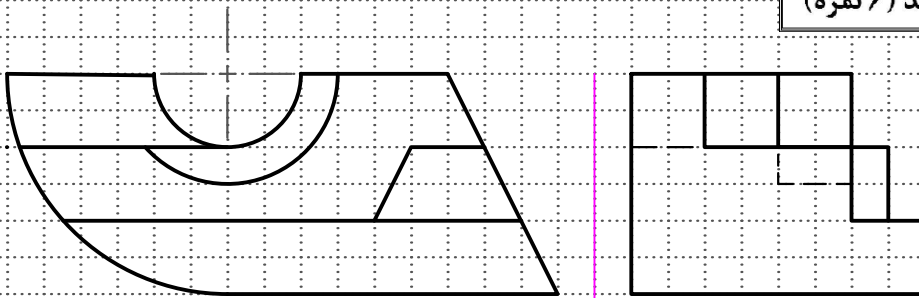
۲- تصویر سوم جسم زیر را رسم کنید (۲ نمره)



۳- تصویر سوم جسم زیر را رسم کنید (۶ نمره)



۴- تصویر سوم جسم مقابل را رسم کنید (۶ نمره)



۵- اگر جسم ۱ مطابق با شکل ۲ دوران یابد
آنگاه جسم ۳ با همان دوران مطابق کدام
گزینه مشاهده خواهد شد؟ (۱ نمره)

